

<範圍：Ch1-Ch2>

【劃卡代號：52】

班級：

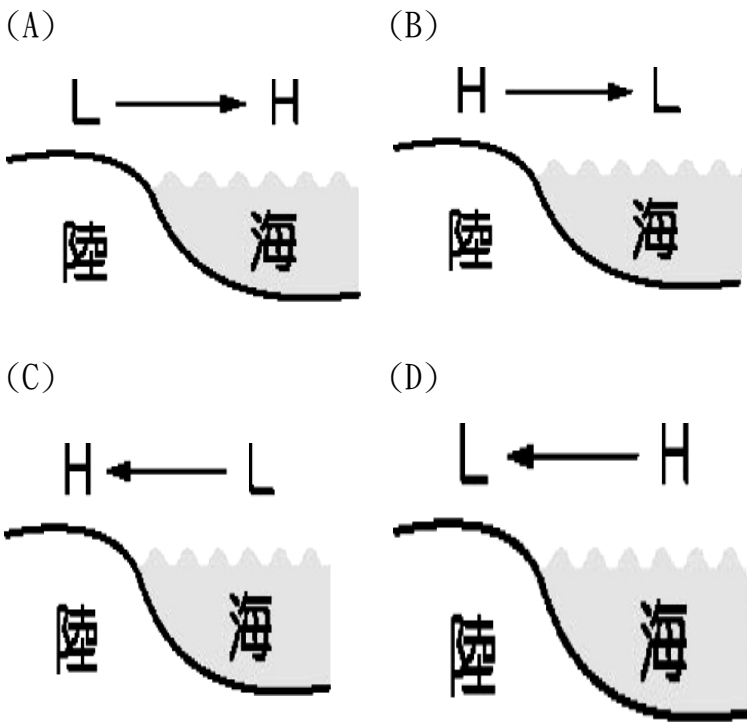
座號：

姓名：

※答案卡限用 2B 鉛筆劃記，答案請劃記明確；若有劃記錯誤，請擦拭乾淨。分數以電腦讀卡分數為準。
 ※請作答於答案卷上，考試完畢僅繳交答案卷，請不要填錯格。

一、選擇題（共 25 題，每題 4 分，合計 100 分）

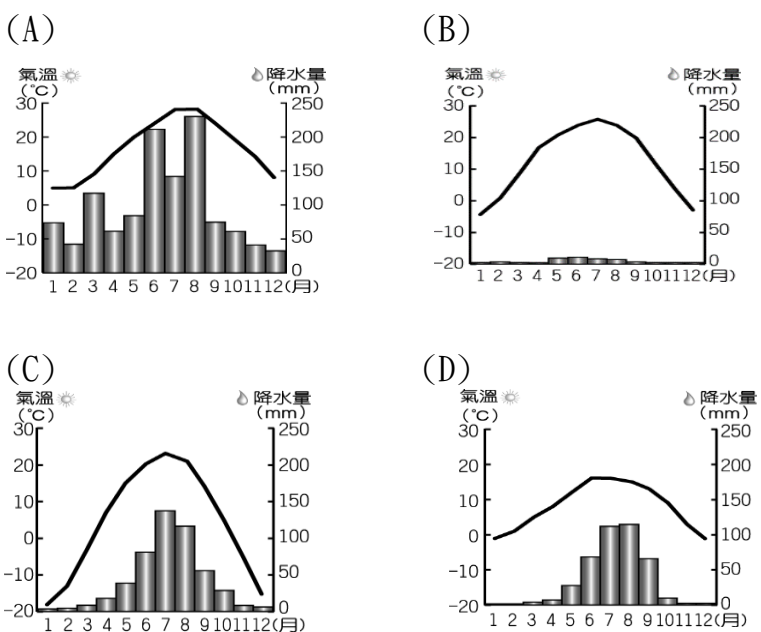
1. 鄭和太監若預計冬天前往東南亞國家了解該地生活狀態以回報給皇上，則該季節的盛行風向原因可由哪張圖說明？



2. 廣東因山多平原少使得人口外流比例高，而移居異地的華人多半把中華文化傳播至世界各地，則下列哪個不是中華文化？

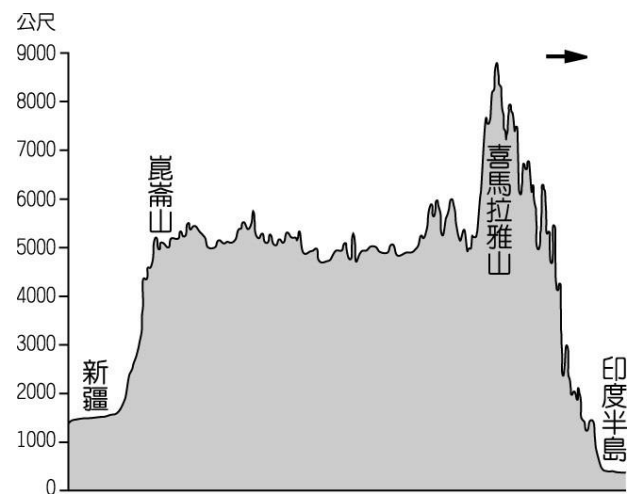
- (A) 新北泰山巖 (B) 美國唐人街
 (C) 新加坡中國城 (D) 澳洲天主教堂

3. 萌萌壞雪怪來自於青藏高原地區，該地區地勢險峻、冬天寒冷、夏天涼爽，其氣候特色可能為何？



4. 小安在前往崑崙山前整理相關圖表時，發現附圖右上角箭頭並沒有指示方向，若由此地形剖面圖判斷該箭頭可能指向何方？

- (A) 東 (B) 西 (C) 南 (D) 北



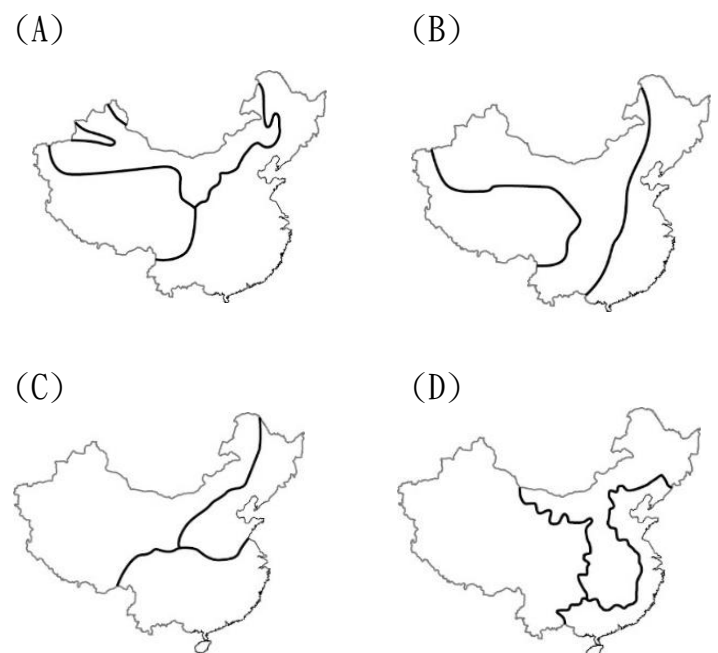
5. 中國中部地區近來出現 26 層的養豬大樓，每層都像獨立的牧場，按小豬生命的不同階段分成不同區域：懷孕母豬區、產仔區、哺乳區，還有將小豬養肥的地方。這樣科學化的生產流程與哪個農牧業轉型策略有關？

- (A) 設立糧食基地 (B) 提升生產效率
 (C) 運輸工具改善 (D) 道路建設完備

6. 河套平原引水灌溉與長江流域圍湖造田是傳統增加糧食的方式之一，這些增加糧食的方式可以歸納為以下何者？

- (A) 改良農具 (B) 製作堆肥
 (C) 荒地開發 (D) 引進外來作物

7. 若依據相對高度來區分中國三階梯的地形特色，則明鳳採用下列哪張圖呈現最符合此特色？

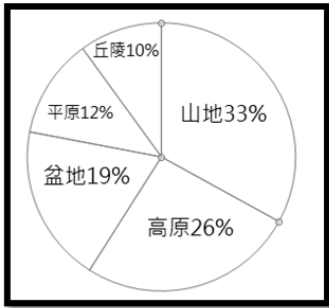


8. 新疆因為族群多元，常成為治安較混亂的地方，使得中國近年為了維持地方穩定而設立再教育營，然而此舉受到國際人權組織的批評。文中提及地區族群多元的可能原因為何？

- (A)地形阻隔 (B)鄰國眾多
(C)鄰近海洋 (D)位於中國中間位置

9. 小凡在觀察附圖中的中國地形比例分布時，發現某種地形在臺灣地形中不曾看過，則某種地形在附圖中所佔比例為多少？

- (A)10% (B)12% (C)19% (D)26%

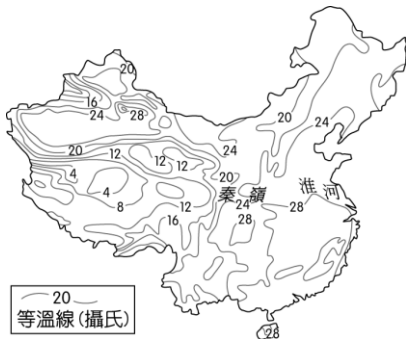


10. 中國實行「三孩政策」，鼓勵一對夫妻生育 3 名子女，以紓緩高齡化、少子化問題。由此推測中國實施三孩政策的目的是什麼？

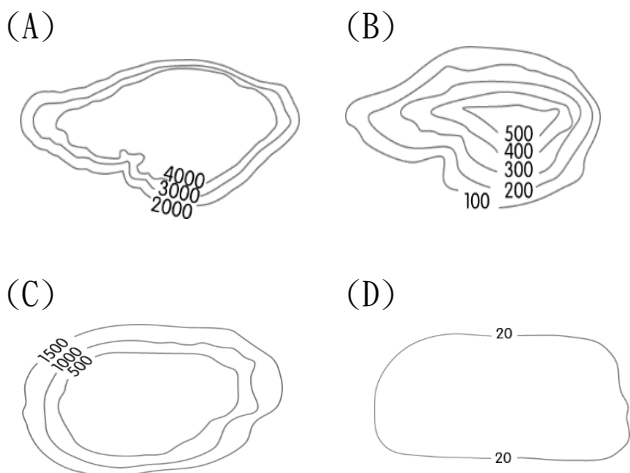
- (A)避免人口外流 (B)避免扶養比過低
(C)避免扶養比過高 (D)避免性別比過低

11. 若阿凡想在附圖中 4 度至 8 度的地區從事背包客旅行，則哪個行政區較符合阿凡需求？

- (A)黑龍江省 (B)海南島省
(C)寧夏回族自治州 (D)西藏藏族自治州



12. 中國四川地區因為某種特殊地形而使得當地溼氣較重，當地醫師稱四川人多吃辣有助發汗排濕，以減少中暑機率。文中提及的特殊地形可能為何者？



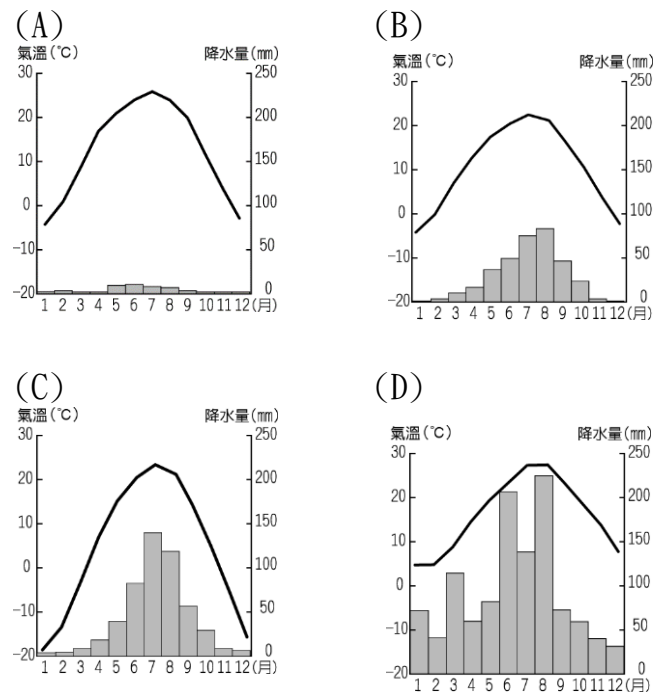
13. 福建居民在某種具有梯田景觀的地形上興建土樓，該土樓的建立以高牆小窗聞名，此設計是為了抵禦外侮。由此判斷，該土樓位於以下何處？

- (A)東南丘陵 (B)東北平原
(C)黃土高原 (D)準噶爾盆地

14. 人口倍時指人口增加一倍所需的時間，若以中國人口近 300 年的變化來看（1700 年人口增加一倍的時間花了 100 多年；1950 年後人口增加一倍的時間花了 30 幾年），人口倍時呈現何種趨勢？

- (A)越來越長 (B)越來越短
(C)維持不變 (D)一下長一下短又一下長

15. 現在的內蒙古東部地區常會看到蒙古人以騎摩托車的方式在大草原趕牛羊，而此生活方式所在區的氣候環境可能為以下何者？



※根據下文，回答 16-17 題

2021 淘寶網雙十一成交額 5403 億，然而疫情影響讓 2022 的成交額陷入寒冬，使得許多電子商務平台的企業感到焦慮。

16. 淘寶網的成交額多半來自於上海市、北京市與天津市等行政區，其可能與中國哪個人口特色有關？

- (A)人口分布不均 (B)種族多元性高
(C)人口素質低落 (D)人口外流比例高

17. 若從人口分布特性來分析，2022 年疫情嚴峻的地方可能位於何處？

- (A)最高階梯的自治區 (B)次高階梯的自治區
(C)最低階梯的海島省 (D)次高階梯的直轄市

※根據附圖，回答以下 18-19 題



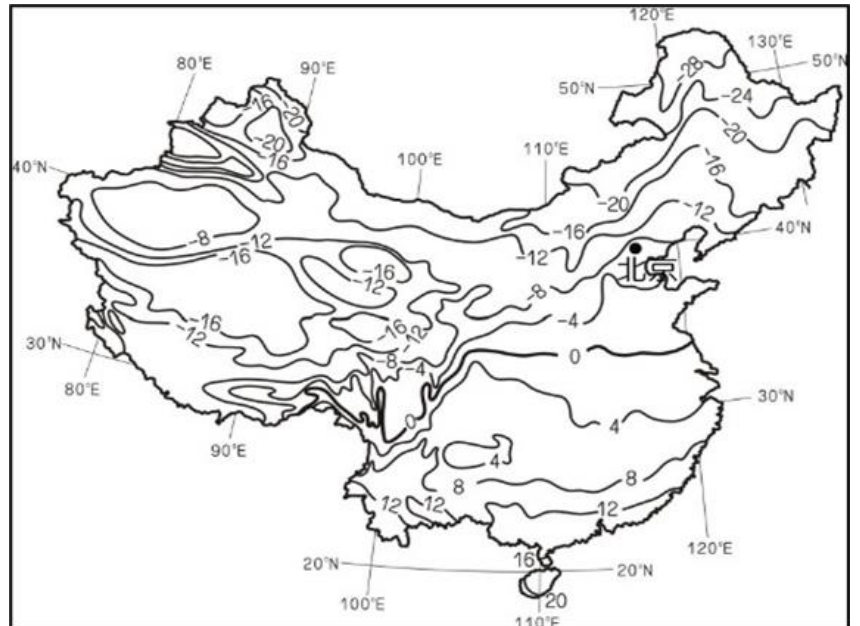
18. 中國最大的塔克拉瑪干沙漠，意為進得去；出不來，使得許多超級馬拉松參賽者視其路跑路線為極具挑戰性的地方，其所在位置可能為何？
 (A)甲 (B)乙 (C)丙 (D)丁
19. 圖中的等雨量呈現某種分布特性，此特性影響各地的農牧分布情況，則某種分布特性可能為何？
 (A)東南向西北遞減 (B)西南向東北遞減
 (C)東南向西北遞增 (D)西南向東北遞增

※根據下文，回答以下 20-21 題

近來中國網路流行「四不青年」和「卷躺潤獻」這 2 個詞彙，用來稱呼當代的年輕人和他們的生存狀態。所謂「四不」是指不搞對象、不結婚、不買房、不要孩子，在城市工作的中國年輕人，除了面臨激烈競爭，加上因為工時長和工資少，沒有經濟能力去消費、跟朋友出去玩，沒有社交活動，就不可能實現結婚和生小孩，至於買房子，連想都不敢想。另外，中國網路也用「卷躺潤獻」形容年輕人的生存狀態，「卷」就是內捲，指人與人之間激烈競爭；「躺」就是躺平，即一種放棄心態，什麼都不做；「潤」就是離開中國，移民國外；而「獻」則是指無差別地襲擊別人，以宣洩心中怨恨感的行為。

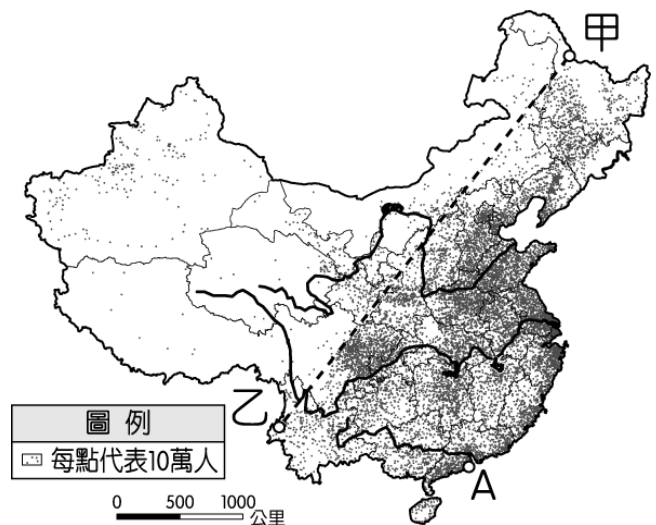
20. 四不現象與哪個中國人口特徵關聯性較高？
 (A)人口過多使得就業競爭大
 (B)人口年輕化使得工資上揚
 (C)人口外流比例下降使得工時提高
 (D)人口性別比越來越低使得男性不願意努力
21. 網路流行語【卷躺潤獻】中，哪一個現象的描述較符合推拉理論中的推力現象？
 (A)卷 (B)躺 (C)潤 (D)獻

※根據附圖，回答以下 22-23 題



22. 若由中國東半部的溫度分布情況來推測，該圖所在的月份可能為何？
 (A)1月 (B)5月 (C)9月 (D)11月
23. 大凡發現位於同緯度(北緯 30 度)的中國西部與東部在溫度上呈現落差，其影響落差的主要因素可能為何？
 (A)地形 (B)緯度 (C)季風 (D)距海遠近

※附圖為中國人口點子圖，根據附圖回答 24-25 題



24. 在甲乙線以西的地方有些人口集中區，這些地方人口集中的原因可能與以下何者關聯性較大？
 (A)當地多半位於綠洲
 (B)當地多半位於山脊
 (C)當地多半以漢族管理為主
 (D)當地多半有大型水力工程
25. A 地的地理區特徵可能為何？
 (A)環境負載力低
 (B)長江出海口位置佳
 (C)曾經被外國勢力管理
 (D)移民大多往日本移動